

F

Prénom : -----

N° : -----

quelques calculs + liens logiques

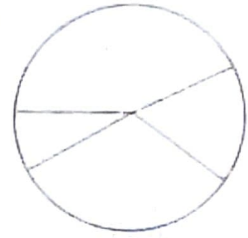
Savoir calculer : Additions et soustractions => 10 000

- 1)
- | | | |
|------------------------------|----------------------------|----------------------------|
| $10\ 000 - 2\ 000 =$ ----- | $10\ 000 - 100 =$ ----- | $10\ 000 - 250 =$ ----- |
| $10\ 000 -$ ----- $= 4\ 000$ | $10\ 000 - 9\ 000 =$ ----- | $10\ 000 - 2\ 500 =$ ----- |
| $10\ 000 - 5\ 000 =$ ----- | $10\ 000 - 9\ 100 =$ ----- | $10\ 000 - 125 =$ ----- |
| $10\ 000 -$ ----- $= 3\ 000$ | $10\ 000 - 200 =$ ----- | $10\ 000 - 1\ 250 =$ ----- |

+	250	420	1 020	2 500	5 000	920	940	640	510
190									
299									

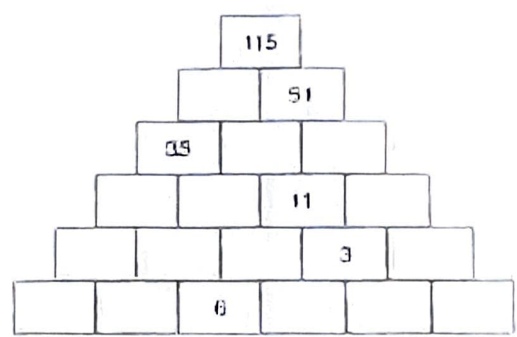
2) Inscris dans chaque zone le nombre qui convient

- Sur 100 francs :
- 45 centimes
 - 16 centimes
 - 11 centimes
 - 3 centimes 4 millièmes ou plus

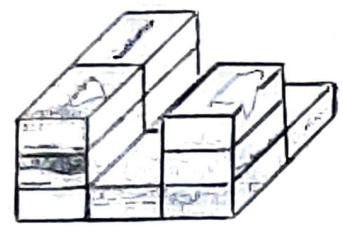


3) A chaque case doit correspondre un nombre. Chaque nombre représente la somme des deux nombres placés en dessous de lui.

Complète :



4) Combien de boîtes de mouchoirs sont nécessaires pour compléter cette pile ?
De combien de boîtes se compose la « pile » entière ?



Il faut boîtes de mouchoirs pour compléter cette "pile".
La "pile" entière se compose de boîtes.

5) Quel jour sommes-nous ?

Joseph va à l'entraînement de hockey le mercredi et le dimanche.
Il suit des cours de piano le lundi et le dimanche.
Le mardi, il va chez sa grand-mère.
Le mercredi, il va à la piscine.
Aujourd'hui Joseph va d'abord à son entraînement de hockey et ensuite à la piscine.
Nous sommes le -----

F

6) Quel âge à chacun de nous ?

Je m'appelle Célia et j'ai 3 ans de moins que le plus âgé de nous quatre.
Je m'appelle Nouran et j'ai 2 ans de plus que Célia et 4 ans de plus que Ilias.
Je m'appelle Mourad, j'ai 14 ans et je suis l'aîné de la bande.

Célia :	ans	Nouran :	ans
Ilias :	ans	Mourad :	ans

7) Résous en 4 étapes :

- o Il y a 10 jours, papa a acheté une nouvelle voiture. Celle-ci consomme 7 litres aux 100 km.

Combien consommera-t-elle pour parcourir 50 km ?

Nombres utiles : -----
 Je cherche : ----- *ce que consomme la nouvelle voiture pour 50 km.*
 Opérations : -----
 Réponse : -----

- o Chaque jour, Cristina utilise 300 grammes de viande pour préparer le repas de son chien Snoopy qui pèse 24kg.

Quelle quantité de viande utilise-t-elle en une semaine ?

Nombres utiles : -----
 Je cherche : -----
 Opérations : -----
 Réponse : -----

- o Mon ami le libraire, qui habite 5 maisons plus loin que chez moi, a vendu il y a 2 semaines : 240 journaux le lundi, 165 le mardi, 140 le mercredi, 153 le jeudi, 276 le vendredi et 286 le samedi. Combien de journaux a-t-il vendus en moyenne par jour cette semaine là ?

Nombres utiles : -----
 Je cherche : -----
 Opérations : -----
 Réponse : -----

- o Après la récréation du matin, Rayan a 27 billes et Gabriel 43. Coralie en a 22. Combien les garçons ont-ils de billes de plus que Coralie ?

Nombres utiles : -----
 Je cherche : -----
 Opérations : ----- et -----
 Réponse : -----